

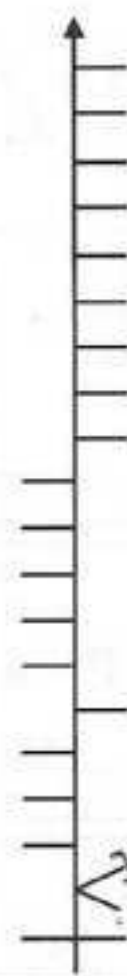
| | | | | | | | | | | |
|------|------|------|---|--|--|------|--|----|----|--|
| | | P | L | | | | | Z6 | | |
| | | | P | | | | | L | 2x | |
| 0,00 | 0,00 | 0,76 | | | | | | | | |
| | | | | | | META | | | | |
| 0,00 | 0,23 | | | | | | | | | |

Informacje dodatkowe:

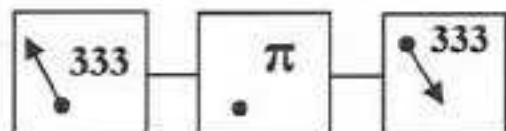
OPIS 1 Jedź w kierunku Muzeum Saturna (wykorzystując itinerer dojazdowy do Muzeum), wykonaj Z1. Po minięciu Muzeum skręć w lewo. Następnie przejedź obok dwu ulic odchodzących w lewo.

OPIS 2 Za znakiem „ustęp pierwszeństwa przejazdu” skręć w prawo i wyzeruj licznik. Jedziesz ulicą Gdańską, którą miasto Czeladź udostępniło tereny pod przyszłe inwestycje. Po przebyciu 1,13 km, na łuku drogi, skręć w prawo, po 140 m dojedziesz do obiektu – wykonaj Z4 i okrąż plac w kierunku przeciwnym do ruchu wskazówek zegara, następnie powróć do ul. Gdańskiej i skręć w prawo.

Ch. 1

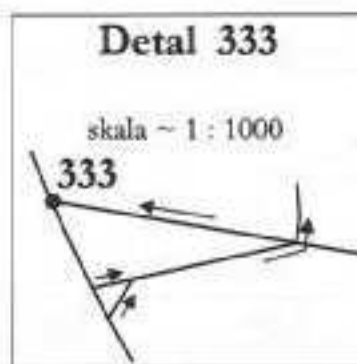
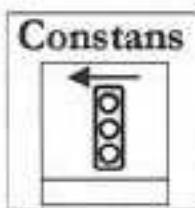
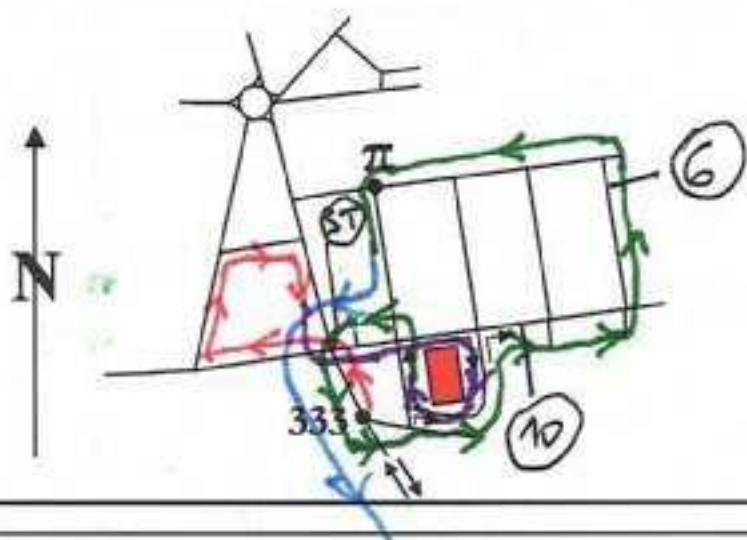


Plan π TRASA:



Skala 1: 10000

(1 mm na mapie to 10 m w terenie)



ZADANIA:

- Z1 Co mieści się w drugim budynku po prawej stronie trasy przejazdu – podaj dwie pierwsze litery pierwszego członu nazwy umieszczonej w górnej części bocznej ściany budynku (widocznej przy dojeżdżaniu do niego).
- Z2 Podaj sumę odległości do progów zwalniających z tabliczek znaków drogowych napotkanych pomiędzy namiarami 2 a 5.
- Z3 Ile Gwiazd Dawida zdobi bramę cmentarza?
- Z4 Podaj numer obiektu.
- Z5 Podaj numer słupa linii wysokiego napięcia.
- Z6 Podaj liczbę rurociągów pod którymi przejeżdżasz.
- Z7 Podaj numer słupa linii wysokiego napięcia.